

No.21

5年 組 番 名前 (

① 805 - 8

② 13.7 × 9

③ 14 ÷ 0.7

④ 6 × 4 - 3 × 5

⑤ 6 × (3 + 2)

⑥ 80 - 30 ÷ 5

⑦ $1\frac{1}{3} - \frac{2}{3}$

⑧ $\frac{1}{3} + \frac{3}{5}$

⑨ 一万二千四十七

⑩ 十万八百四十三

⑪ , , , の4枚のカードをそれぞれ1回ずつ使って整数を作りましょう。

一番小さい数 一番大きい数 6000に一番近い数

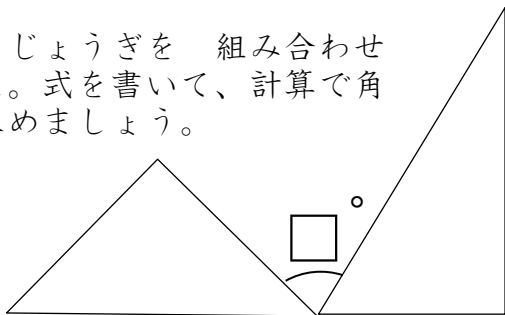
⑫ 午後6時30分から午後7時20分までの時間

⑬ 1時間45分と35分を合わせた時間

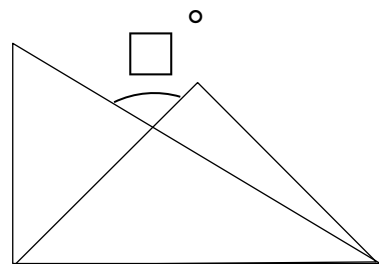
⑭ 6mの重さが 3kgの木材があります。この木材の1mの重さは、何kgですか。求める式と答えを書きましょう。

式 答え ()

⑮ 三角じょうぎを組み合わせました。式を書いて、計算で角度を求めましょう。



式 答え ()



式 答え ()

No.22

5年 組 番 名前 (

① $243 - 67$

② 27×3.2

③ $912 \div 4$

④ $(60 - 30) \times 5$

⑤ $8 - 0.4$

⑥ $30 + 120 \times 2$

⑦ $2\frac{4}{7} + \frac{5}{7}$

⑧ $\frac{3}{4} + \frac{2}{3}$

⑨ 十万三千八百六

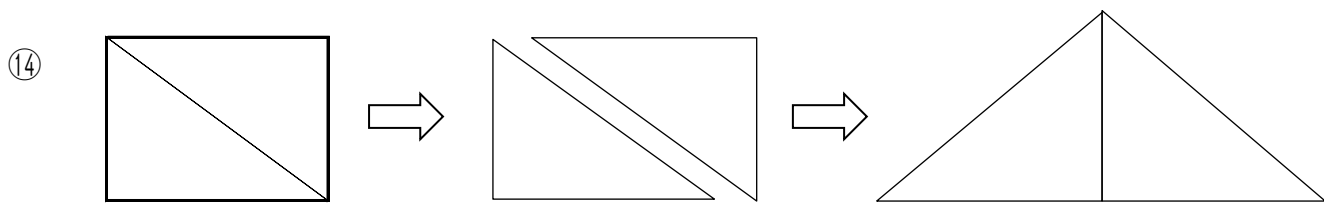
⑩ 四万二百五十七

⑪ , , , の4枚のカードをそれぞれ1回ずつ使って整数を作りましよう。

3500に一番近い数 一番大きい数 7000に一番近い数

⑫ 午後7時15分から午後8時35分までの時間

⑬ 1時間5分と2時間35分を合わせた時間



長方形を1本の対角線で2つに切りました。これを組み合わせて、別の図形を作りました。

*組み合わせてできた図形の面積は、もとの長方形の面積と比べると、どれだけの大きさになりますか。1~4までの中から1つ選んで、その記号を書きましよう。

- 1 面積は、0.5倍になる。
 - 2 面積は、1.5倍になる。
 - 3 面積は、2倍になる。
 - 4 面積は、変わらない。
-

*組み合わせてできた図形の名前を書きましよう。